

令和6年度

帝塚山学院泉ヶ丘高等学校  
入学者選抜試験問題

1次・帰国生入試

社会

(試験時間50分)

受験番号	
------	--

- 1 堺市の中学校に通ういずみさんは、社会の授業で堺市がニュージーランドのウェリントンと姉妹都市提携を結んでいることを知った。姉妹都市に興味をもったいずみさんは日本の都市と相手国についてそれぞれ調べることにした。次の【A】～【F】はそれらについて説明した文章である。【A】～【F】の文章を読み、あとの設問に答えなさい。

<p>【A】神奈川県横浜市とインドのムンバイ</p> <p>横浜市について</p> <p>この都市の東側は海に面し、港湾、工業、物流施設が立ち並ぶ(a)工業地帯の一角を担っています。さらに、市を代表する景観である「横浜みなとみらい 21 地区」など、商業施設や観光施設も数多くあり、観光都市にもなっています。</p> <p>インドについて</p> <p>この国は人口の多い国であり、2023 年半ばに世界第 1 位になったといわれています。人口が増加した背景として、主食の米や小麦の増産があげられます。改良された稲や麦の品種の導入、かんがい設備の整備や農作業の機械化などの取り組みを行い、成果をあげました。</p> <p>また、外国資本の導入を行い、工業化を果たしました。近年では、(b)ICT(情報通信技術)関連産業が急速に成長しています。また、2023 年に開催された G20(金融・世界経済に関する首脳会合)で議長国を務めました。</p>
--

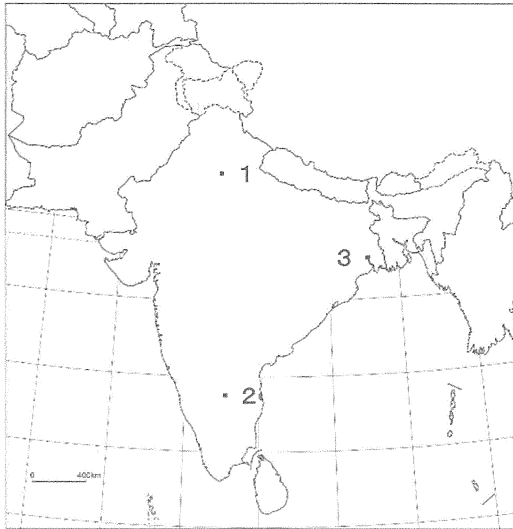
- 問 1 下線部(a)について、この工業地帯の工業出荷額の割合を表したものとして最も適当なものを次から 1 つ選び、解答欄の記号を○で囲め。

	金属	機械	化学	食料品	繊維	その他	総出荷額 (百億円)
ア	20.9	37.9	15.9	11.1	1.3	12.9	3366
イ	11.9	44.4	10.3	15.8	0.6	17.0	3202
ウ	9.4	47.0	18.7	11.6	0.4	12.9	2529
エ	21.3	12.7	40.1	16.1	0.2	9.6	1258
オ	17.0	45.6	6.0	16.6	0.6	14.2	998

数値は% データは2019年 日本国勢図会2022/23より作成

問2 下線部(b)について、インドで ICT 産業が集積している都市であるバンガロール（ベンガルール）の場所と、インドの ICT 関連産業の現状について述べた文の組み合わせとして最も適当なものを下のア～カから1つ選び、解答欄の記号を○で囲め。

【地図】



【現状】

- 4：理数系の教育に力を入れており、ソフトウェア開発の優秀な技術者を先進国と比較すると低賃金で雇用することができる。
- 5：ICT 産業が発達するアメリカ合衆国との時差が約半日あるため、共同で技術開発を進めることができない。

	ア	イ	ウ	エ	オ	カ
地図	1	1	2	2	3	3
現状	4	5	4	5	4	5

【B】 鹿児島県鹿児島市とオーストラリアのパス

鹿児島市について

この都市は大陸や南洋諸島に近いという立地条件から、琉球を中継地として貿易が活発に行われ、大陸文化やヨーロッパ文化の門戸となりました。(c)明治維新で活躍した多くの著名人を輩出したことでも知られています。

オーストラリアについて

この国は人口の約3割が外国生まれで、国内で生まれた人の多くも移民の子孫です。かつては、ヨーロッパ系以外の移民を厳しく制限する白豪主義という政策をとっていましたが、経済発展の目覚ましい(d)アジアとの結びつきを強化するなどの理由で、1970年代にこの方針は廃止され多文化社会を目指すようになりました。

問3 下線部(c)について、次の文章は明治維新で活躍した人物について説明したものである。このうち薩摩藩出身でない人物についての説明を次から2つ選び、解答欄の記号を○で囲め。

ア：大久保利通は、不平等条約改正のために岩倉具視などとともに、欧米諸国へ渡った。

イ：西郷隆盛は、征韓論を主張したが、反対にあったため政府を辞職した。

ウ：伊藤博文は、ドイツへ渡り憲法の調査を行った後に初代内閣総理大臣となった。

エ：大隈重信は、国会開設の勅諭が出されると、国会開設に備えて立憲改進黨を結成した。

問4 下線部(d)について、環太平洋地域の政府間の経済協力を推進するためにオーストラリアの提唱によって設立された地域協力機構の略称をアルファベットで答えよ。

【C】 兵庫県神戸市とブラジルのリオ・デ・ジャネイロ

神戸市について

この都市は江戸時代に開港されて以降、多くの外国人が移り住み、国際都市として発展をしてきました。北部を六甲山地、南部を大阪湾に挟まれ、平坦な土地が少ないことに悩まされてきましたが、山を削って(e)ニュータウンをつくり、その土砂を埋め立てに利用することによって市街地を広げてきました。

ブラジルについて

この国を流れる川の流域には広大な熱帯林が広がり、「地球の肺」ともいわれています。この国は 16 世紀にヨーロッパの人々が進出し植民地となりました。その影響が言語や宗教、文化など様々なところでみられます。また、混血が進んだことも特徴であり、入植したヨーロッパ系と先住民との混血は（ 1 ）とよばれています。

かつてはコーヒー豆の輸出に依存する(f)モノカルチャー経済の国でしたが、近年では大豆や鶏肉や牛肉、サトウキビの生産も増えています。また、サトウキビの一部は環境にやさしいバイオ燃料へと加工されています。

問 5 下線部(e)について、日本のニュータウンについて述べた説明として誤っているものを次から 1 つ選び、解答欄の記号を○で囲め。

ア：ニュータウンは大都市の過密問題を解消するために建設され、東京の多摩や大阪の千里・泉北などが知られている。

イ：ニュータウンのなかに多くの職場があるため、住民の生活はほとんど地域内で完結している。

ウ：1960 年代～1970 年代につくられた古いニュータウンでは建物の老朽化などの問題が発生している。

エ：入居した世帯の子どもが自立し世帯を離れる中で、急速に地域の少子高齢化が進行した。

問 6 下線部(f)について、モノカルチャー経済の問題点を説明せよ。

**【D】 東京都町田市と南アフリカ共和国**

町田市について

この都市は、島嶼部を除くと、東京都の最南端に位置しています。交通の便が良く、新宿・渋谷・横浜といった都心に行きやすい一方で、緑豊かな自然に触れ合うこともでき、ファミリー層に人気のあるベッドタウンとなっています。市の中心部から離れると里山の風景や地場野菜を作る農地など豊かな自然の魅力も味わえます。

南アフリカ共和国について

この国は(g)BRICSのうちの一國に数えられ、近年経済成長が著しい国です。金やダイヤモンド、(h)マンガンやクロムなどの地下資源が豊富で、自動車産業を中心に外国資本の進出が進むなど、工業化も進んでいます。

この国をはじめ、アフリカ大陸にある多くの国が第二次世界大戦後に独立を果たしました。しかし、( 2 )といわれる先進国と途上国との経済格差などの問題はいまだに残っています。

問7 下線部(g)について、「BRICS」は5つの国の頭文字を組み合わせた造語であるが、【A】～【F】の国の中に登場しないものが2つある。その国の名前を正式名称で答えよ。

問8 下線部(h)について、これらに代表される埋蔵量が非常に少ない金属や、純粋なものを取り出すことが技術的・経済的に難しい金属の総称を答えよ。

【E】高知県高知市とインドネシアのスラバヤ

高知市について

この都市の沖合の土佐湾には黒潮が流れ日本有数の漁場として知られています。また、農作物の生育に必要な降水量や日照時間などの条件にも恵まれ、食の宝庫となっています。

一方で、高知市を含めた県内では少子高齢化の問題や近い将来に発生が予測される南海トラフの(i)巨大地震の対策などが求められています。

インドネシアについて

東南アジアにあるこの国は、高く険しい山がみられ地震や火山が多いなど、日本との共通点がみられます。人口は東南アジアの中で最大で、さまざまな民族が暮らしています。交通の要衝に位置し、この国で(j)主に信仰されている宗教は他国から伝わってきました。

問9 下線部(i)について、災害とその対策について説明した以下の文のうち誤っているものを次から1つ選び、解答欄の記号を○で囲め。

- ア：津波が発生した場合は、いかなる建物であっても危険なので、すぐに高台まで避難するべきである。
- イ：地震が発生すると、揺れによって建物が壊れたり、山崩れが起きるだけでなく、埋め立て地などでは液状化現象が起こることもある。
- ウ：ハザードマップは様々な自然災害による被害の可能性や、災害発生時の避難場所を示した地図であり、身近な地域の自然環境の特徴や起こりやすい災害を知ることが出来る。
- エ：災害時は国や都道府県や市区町村が行う救助や支援に頼るだけでなく、自分自身や家族を守る自助や、住民同士で協力して助け合う共助が大切である。

問10 下線部(j)について、インドネシアで主に信仰されている宗教を説明した文章として最も適当なものを次から1つ選び、解答欄の記号を○で囲め。

ア：この宗教は、牛を神の使いとして神聖な動物と考えている。

イ：この宗教は、祈りの方法から衣服の着かた、食事のしかたなど日常生活に関わる細かい決まりがある。

ウ：この宗教は、世界中で広く信仰され、さまざまな宗派に分かれており、信仰する人口は世界で最も多い。

エ：この宗教は、南アジアの国を発祥の起源としているが、現在その国ではあまり信仰されていない。



【F】 京都府舞鶴市とイギリスのポーツマス

舞鶴市について

この都市は、京都府の北部、日本海が最も深く湾入したところにあります。海岸線一帯は、入江と岬が美しく交錯したリアス海岸となっており、若狭湾国立公園に指定されています。明治から昭和の初期にかけて工場や倉庫などの海軍施設が作られました。現在も当時の建物が多く残され、(k)観光地として多くの人を魅了しています。

イギリスについて

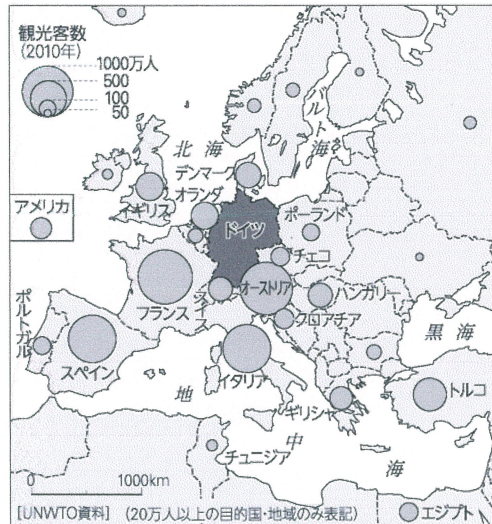
この国は世界ではじめて( 3 )を成し遂げ、「世界の工場」と呼ばれました。しかし、その後は、ヨーロッパ最大の工業国の座を(l)ドイツに譲りました。

また、この国には本初子午線が通っており、(m)日本との時差は 9 時間あります。

この国発祥の文化は多く、植民地支配を通じて世界中に広がりました。例えば、(n)クリケットという野球に似たスポーツがありますが、競技人口はサッカーに次いで世界 2 番目であり、ワールドカップも 4 年に 1 度開催されるほど親しまれています。

問11 下線部(k)について、観光地の収容人数を超えた観光客が押し寄せることで、そこで生活する地域住民の暮らしに悪影響が出てしまう状態のことをカタカナで答えよ。

問12 下線部(1)について、下の図はドイツ人の国外への旅行先を示したものである。この地図を見て、いずみさんと友人のてづかさんが会話をしている。会話文中に引かれた下線部のうち、誤った内容のものを1つ選び、解答欄の記号を○で囲め。



UNWTO 資料より

いずみさん：「ドイツからの観光客数の統計だけど、ヨーロッパを行先にする人が多いね。」

てづかさん：「そうだね。やっぱり、(ア)EU加盟国の多くが、国境での検問を行わないシェンゲン協定に同意していることも理由じゃないかな。ただ、EU域外でもトルコみたいに観光客数が多い国もあるね。」

いずみさん：「(イ)ドイツは戦後に労働者不足を補うため、トルコから労働者を迎え入れたと聞いたことがあるよ。文化的な交流も行われてきたんじゃないかな。」

てづかさん：「文化というと、(ウ)ドイツと同じゲルマン系の言語を用いるオーストリアも観光客数が多いね。イギリスやデンマークもゲルマン系の言語を使っているから、観光客数が多いのかな。」

いずみさん：「言語以外にも、通貨が理由にあるのかも。(エ)ドイツで使われるユーロがイギリスやデンマークで使われていて、両替の手間がないからね。」

てづかさん：「イタリアやスペインなどの南ヨーロッパの国が多いのは物価の安さや気候が理由なのかもね。こうしてみると色々なことが考えられて面白いね。」

問13 下線部(m)について、いずみさんは春休みに日本からイギリスへ短期の語学留学をすることになった。しかし、関西国際空港からイギリスへの直行便がないため、途中でアラブ首長国連邦のドバイ国際空港を経由することになった。以下がそのスケジュールである。このとき、いずみさんが飛行機に乗っている時間を計算せよ。ただし、ドバイの標準時子午線は東経 60 度であり、時刻は現地時間を 24 時制で表記している。

関西国際空港：3月20日23時30分発

～ドバイ国際空港：3月21日5時45分着

ドバイ国際空港：3月21日7時45分発

～ロンドンヒースロー空港：3月21日11時40分着

問14 下線部(n)について、2023年は第13回クリケットワールドカップが開催された年である。以下の国のうち、この大会に参加していない国を次から1つ選び、解答欄の記号を○で囲め。

ア：インド

イ：オーストラリア

ウ：南アフリカ共和国

エ：インドネシア

問15 文章【C】・【D】・【F】にある空欄( 1 )～( 3 )にあてはまる適切な語句を答えよ。

問16 次の表は横浜市・鹿児島市・神戸市・高知市の月別の気温と降水量、年間の平均気温と総雨量を示している。このうち、神戸市のデータとして最も適当なものを次から1つ選び、解答欄の記号を○で囲め。

	1月	2月	3月	4月	5月	6月	7月	8月	9月	10月	11月	12月	年間
ア	8.7	9.9	12.8	17.1	21.0	24.0	28.1	28.8	26.3	21.6	16.2	10.9	18.8
	78.3	112.7	161.0	194.9	205.2	570.0	365.1	224.3	222.9	104.6	102.5	93.2	2434.7
イ	6.1	6.7	9.7	14.5	18.8	21.8	25.6	27.0	23.7	18.5	13.4	8.7	16.2
	64.7	64.7	139.5	143.1	152.6	188.8	182.5	139.0	241.5	240.4	107.6	66.4	1730.8
ウ	6.7	7.8	11.2	15.8	20.0	23.1	27.0	27.9	25.0	19.9	14.2	8.8	17.3
	59.1	107.8	174.8	225.3	280.4	359.5	357.3	284.1	398.1	207.5	129.6	83.1	2666.4
エ	6.2	6.5	9.8	15.0	19.8	23.4	27.1	28.6	25.4	19.8	14.2	8.8	17.0
	38.4	55.6	94.2	100.6	134.7	176.7	187.9	103.4	157.2	118.0	62.4	48.7	1277.8

上段が気温(°C)、下段が降水量(mm) 数値は1991年から2020年の平均値  
気象庁資料より作成

2 次の A～I の文章を読み、あとの設問に答えなさい。

A 古代の日本は農耕や機織り、様々な技術を始めとして、宗教や文字などの文化を大陸から学んだ。また、中国王朝への使節派遣なども通して、国家制度も学び中国のような律令国家への道を歩み始めた。

問1 日本で農耕が始まった時代の代表的な遺跡として吉野ヶ里遺跡がある。その場所を以下の地図のア～エから1つ選び、解答欄の記号を○で囲め。



問2 古代の日本と大陸の関係について述べた文として最も適当なものを次から1つ選び、解答欄の記号を○で囲め。

ア：4世紀、ヤマト政権が新羅と戦ったということが好太王（広開土王）碑文によってわかる。

イ：5世紀、ヤマト政権の王たちが中国南朝の宋に使節を派遣していたことが中国側の史料によってわかる。

ウ：百済は日本の鉄資源を求めて倭と同盟関係を築いた。

エ：渡来人が伝えた窯の技術によって土師器が作られた。

問3 古代日本における律令形成期の天皇について述べた文として最も適当なものを次から1つ選び、解答欄の記号を○で囲め。

ア：推古天皇の時代には小野妹子が唐に派遣された。

イ：天智天皇の時代には日本初の全国的戸籍が作成された。

ウ：天武天皇の時代には都が大坂の難波宮に移された。

エ：持統天皇の時代には日本で最初の律令が制定された。

B 奈良時代は政治争いや天災、疫病のまん延など混乱の多い時代であった。その中で民衆生活は困難をきわめ、次第に律令制度に従わない人々も出てきた。その後、平安時代には律令制はその行き詰まりを見せ始めた。様々な面で制度の再設計が図られ、多くの改正法令や新たな官職の設置が行われたが、10世紀には実質的には機能しなくなっていった。

問4 奈良時代、当時禁止されていた民衆への仏教布教を行い、朝廷から弾圧を受けたが、後に大仏造立の責任者となった僧侶は誰か。漢字で答えよ。

問5 律令体制の行き詰まりは、民衆への負担という形で現れた。以下の史料はこのような状況に対する改革に関してのものである。史料について述べた文として最も適当なものを下のア～エから1つ選び、解答欄の記号を○で囲め。

この日、中納言藤原内麻呂が殿上の間に仕えていた。勅書によって藤原緒嗣と菅野真道に天下の政治に関して議論をさせた。緒嗣は「今、天下の民が苦しんでいるのは軍事(蝦夷への軍事遠征)と造作(都の造営)であります。これをやめれば人々の負担は減るでしょう」といった。真道はこの意見に反対した。帝は緒嗣の意見を良しとして、この二つの事業を停止した。

『日本後紀』

ア：聖武天皇は蝦夷への軍事遠征と都の造営の継続を決断した。

イ：聖武天皇は蝦夷への軍事遠征と都の造営の停止を決断した。

ウ：桓武天皇は蝦夷への軍事遠征と都の造営の継続を決断した。

エ：桓武天皇は蝦夷への軍事遠征と都の造営の停止を決断した。

問6 平安時代の文化について述べた文として最も適当なものを次から1つ選び、解答欄の記号を○で囲め。

- ア：天皇の命令によって編纂された和歌集『新古今和歌集』が成立した。
- イ：空海が密教の教えを持ち帰り、金剛峯寺を中心に天台宗を開いた。
- ウ：阿彌陀如来をより所とする浄土信仰が流行し阿彌陀堂が作られた。
- エ：日本最古の随筆ともいわれる『徒然草』が兼好法師により著された。

C 律令体制が崩壊していく時期、地方を中心に次第に武士の勢力が強まっていた。彼らは武士団を形成し、時には朝廷に反抗し、時には朝廷との結びつきを強めながら成長し、朝廷にとっても無視できない存在となった。このようななか、やがて武家政権が形成され、朝廷から全国の支配権を奪っていった。

問7 以下の史料中の□にあてはまる人物は、史料に記されている時期あたりから朝廷に対する反乱を起こした人物である。□内に入る人物名を漢字で答えよ。

天慶二(939)年十二月、前伊予国の国司□に関して、近頃驚くべき事態となった。□が兵を率いて海に出ようとしたのである。周辺は騒然として人民は大いに驚いている。当時の伊予国司であった紀淑人はこれを制止しようとしたが、□は取り合わなかった。

『本朝世紀』

問8 以下の史料中の「ムサ」とは武者のことであり、その内容は武家社会の到来を感じさせるものである。史料内に記されている「乱逆」の後に政治の実権を握った天皇は誰か。下のア～エから1つ選び、解答欄の記号を○で囲め。

保元元年七月二日、鳥羽院がお亡くなりになり、日本国の乱逆が起こって後、「ムサノ世」になってしまった。・・・このような騒乱は九州や関東でこそ聞くことはあったが、都で起こるようなことは鳥羽院の御時まではなかった。なんと恐れ多いことであろうか。

『愚管抄』

ア：後鳥羽天皇      イ：白河天皇      ウ：後白河天皇      エ：鳥羽天皇

問9 武家政権である鎌倉幕府は当初、その支配権が関東に限定されていたが、承久の乱をきっかけに全国的な支配権を確立していく。承久の乱の時期として最も適当なものを表中のア～オから 1 つ選び、解答欄の記号を○で囲め。

ア

源義経をとらえるために守護・地頭の設置をおこなった。

イ

北条時政が執権という地位に就いて政治の実権を握った。

ウ

平清盛の邸宅があったところに六波羅探題が設置された。

エ

幕府による公正な裁判の基準となる御成敗式目が制定された。

オ

D 鎌倉幕府滅亡後の混乱を経て成立した室町幕府は、第3代将軍足利義満の時代にその最盛期をむかえた。しかし、彼以降の将軍と守護大名との力関係は、しだいに不安定なものとなっていった。政治的には安定が見られなかった室町時代であったが、商業や産業の面では発展を見せ、貨幣経済のさらなる発達や各地域間の流通も盛んとなるなど、民衆の力が向上していった時代でもあった。

問10 以下の史料は鎌倉幕府滅亡後の混乱した政治状況を批判して書かれた落書である。この落書で批判されている当時の政治の名称を答えよ。

この頃、都で流行っているもの、夜討ち、強盗、偽物の帝の命令書。囚人、急ぎの使いを乗せた早馬、中身もない騒動…。

『建武年間記』



問11 室町時代は政治的な不安のなか、一揆が頻発した時代であった。次の史料はそのような一揆に関するものである。史料中の〇〇には当時の年号が書かれており、内容は〇〇元年に始まったある一揆が近畿一带に広がったことを示している。〇〇元年に起こった一揆の名称を答えよ。

〇〇元年ヨリサキ者 カンへ四カンカウニ フキ(イ)メアルヘカラス  
(訳)〇〇元年以前の借金は、神戸四か郷では帳消しにする

問12 室町時代の産業について述べた文として最も適当なものを次から1つ選び、解答欄の記号を○で囲め。

- ア：商人などが工場を作り、人を雇って物作りをする産業の方法が始まった。
- イ：商工業者が惣と呼ばれる同業者組合をつくり、貴族や寺社から保護を受けた。
- ウ：港では、土倉という業者が各地から送られてくる年貢の保管や輸送にあたった。
- エ：定期市が月に6回開かれるようになり、中国から輸入される銅銭で取引された。

E 戦国の気風がまだ色濃く残るなか、初期の江戸幕府は室町幕府とは違い強力な権力をもって日本全国を統制した。その範囲は旗本・大名のみにとどまらず、朝廷、寺社、文化にも及んだ。その後、次第に幕府の政治が安定期をむかえると、上方の町人を中心とする元禄文化が花開いた。しかし、この頃から幕府は財政難となっていき、度々経済対策や財政再建に追われていくこととなった。

問13 元禄文化について述べた文として最も適当なもの次から1つ選び、解答欄の記号を○で囲め。

- ア：狩野永徳は「唐獅子図屏風」などを描いたほか、数々の寺院や城の絵画も手掛け将軍家から保護を受けた。
- イ：井原西鶴は『日本永代蔵』など浮世草子と呼ばれる生き生きとした町人を描いた娯楽性の高い文学作品を多数著した。
- ウ：本居宣長は中国思想が入ってくる前の日本古来の思想を探究する国学を大成し、『古事記伝』などを著した。
- エ：滝沢馬琴の『南総里見八犬伝』のように、歴史などを題材にした庶民向けの長編小説などが人気を集めた。

問14 江戸時代の政策について述べた文として最も適当なものを次から1つ選び、解答欄の記号を○で囲め。

- ア：田沼意次は幕府収入を増やすため長崎での貿易を奨励して中国への輸出を拡大させた。
- イ：徳川吉宗は旗本らの救済のために貸付業者に対して借金の帳消しを命じる法令を出した。
- ウ：松平定信は裁判の公平性を保つために公事方御定書を制定して裁判の基準を作った。
- エ：水野忠邦はそれまで禁止されていた株仲間を認め、<sup>うんじょう</sup>運上・<sup>みょうが</sup>冥加という営業税を納めさせて財政再建を試みた。

F 明治維新が起きた当時、世界は激動の時代であった。アジア諸国を飲み込もうとするヨーロッパ諸国の来航や東アジアにおける盟主であった中国の衰退など、日本を取り巻く国際情勢は予断を許さない状況であり、明治新政府は早急な近代化を求められた。

問15 日本では江戸時代の初期に制定された田畑永代売買の禁令によって長く土地の売買が禁止されていたが、明治新政府は1872年に土地の売買を解禁した。これはある制度または法令を制定するために行われたものであるが、この制度または法令とは何か。次から1つ選び、解答欄の記号を○で囲め。

ア：版籍奉還      イ：廃藩置県      ウ：解放令      エ：地租改正

問16 明治期の日本の外交に関する文Ⅰ～Ⅲについて、古いものから年代順に正しく並びかえたものを下のア～カから1つ選び、解答欄の記号を○で囲め。

Ⅰ：日英同盟が結ばれた。

Ⅱ：台湾を獲得した。

Ⅲ：江華島事件が起きた。

ア：Ⅰ→Ⅱ→Ⅲ      イ：Ⅰ→Ⅲ→Ⅱ      ウ：Ⅱ→Ⅰ→Ⅲ  
エ：Ⅱ→Ⅲ→Ⅰ      オ：Ⅲ→Ⅰ→Ⅱ      カ：Ⅲ→Ⅱ→Ⅰ

問17 明治時代の国会開設と憲法制定にいたる動きについて述べた文として最も適当なものを次から1つ選び、解答欄の記号を○で囲め。

ア：大久保利通は国会開設の要求や藩閥政治への批判を記した民撰議院設立の建白書を政府に提出した。

イ：立志社の設立などに対する政府の弾圧の結果、民権派は言論ではなく武力を中心とした行動に転換していった。

ウ：西郷隆盛を中心とした不平士族の反乱は、政府による徴兵制に基づく近代軍隊によって鎮圧された。

エ：板垣退助による自由党などの政党が結成されると、これらの政党は合同して国会期成同盟を結成した。

G 第一次世界大戦はこれまでの戦争とは異なる戦争であった。国家のすべてを戦争に動員する総力戦といわれる戦争のかたちとなり、全ての国民が戦争への協力を求められた。これまで戦場とは無関係であった女性でさえも兵器工場での労働という形で戦争協力をおこなった。このことから戦後、女性の社会進出も盛んとなっていく。また各国は戦争協力のためにあらゆる国家や勢力に様々な外交をおこなった。その戦中や戦後に交わされた多くの外交も以後の世界に大きな影響を及ぼしたという点も忘れてはならない。

問18 第一次世界大戦時代に交わされた様々な秘密条約や秘密外交がその後の国際社会に影響を及ぼしたといわれる。アラブ人とユダヤ人双方に対してパレスチナに民族国家建設を約束するとした矛盾する秘密外交を行い、現在のパレスチナ問題発生の原因を作った国はどこか、国名を答えよ。

問19 第一次世界大戦の勃発後の出来事として誤っているものを次から1つ選び、解答欄の記号を○で囲め。

ア：二十一カ条の要求を行い、中国における旧ドイツ領の権利を得た。

イ：米価の上昇に対して米騒動が発生し、軍隊も動員される事態になった。

ウ：国際的な社会主義運動の盛り上がりを背景にして日本共産党が結党された。

エ：紡績業ぼうせきの発展により綿糸の輸出量が輸入量を上回り、日本は綿糸輸出国となった。

問20 以下の年表は、世界各国におけるある権利が実現した年が示された年表である。ある権利とは何か。G の文章の内容を参考にして漢字で答えよ。

1893年	ニュージーランド
1895年	オーストラリア
1906年	フィンランド
1917年	ソ連(ソヴィエト=ロシア)
1918年	イギリス
1919年	ドイツ
1920年	アメリカ合衆国
1944年	フランス
1945年	日本・イタリア

H 第一次世界大戦後の世界はしばらくの間、国際的な協調路線を歩むことになった。しかし、1920年代の末に発生した世界恐慌の波の中、各国はそれまでの協調路線を放棄して自国の経済再建を最優先課題としていった。その結果が分断を生み、第二次世界大戦を引き起こす背景となっていく。

問21 日本の中国東北地域への進出に関する文Ⅰ～Ⅲについて、古いものから年代順に正しく並びかえたものを次から1つ選び、解答欄の記号を○で囲め。

Ⅰ：満州国の建国

Ⅱ：国際連盟からの脱退

Ⅲ：関東軍による張作霖の爆殺

ア：Ⅰ→Ⅱ→Ⅲ

イ：Ⅰ→Ⅲ→Ⅱ

ウ：Ⅱ→Ⅰ→Ⅲ

エ：Ⅱ→Ⅲ→Ⅰ

オ：Ⅲ→Ⅰ→Ⅱ

カ：Ⅲ→Ⅱ→Ⅰ

問22 第一次世界大戦から第二次世界大戦の間の1930年代、パレスチナでは民族対立が深刻になり情勢が一層緊張感を増すようになっていく。以下の年表の中にはその要因となる出来事が一つ含まれている。この出来事に触れながら、以下の2つの語句を用いて、このような状況がなぜ生まれたか簡潔に説明せよ。

アラブ人 対立

1931年	ウェストミンスター憲章によりイギリス内の自治領に本国と同等の権利が認められる。
1932年	ナチ党が第一党となり、翌年ヒトラー内閣が成立。
1933年	フランクリン＝ローズヴェルトによるニューディール政策開始。
1934年	日本によるワシントン海軍軍縮条約破棄通告。

問23 1945年8月8日、ソ連は日ソ中立条約を破棄して日本への侵攻を開始した。このソ連の対日参戦はこの年2月のアメリカ・イギリス・ソ連による密約に基づくものであった。この密約を答えよ。

I 第二次世界大戦後、日本は 1950 年からの朝鮮戦争をきっかけに好景気となり、50 年代半ば頃には経済の水準を戦前まで回復させた。その後、1955 年以降は高度経済成長と呼ばれる経済成長をとげ、世界第 2 位の経済大国となった。先進国の一員となった日本は、それに応じて国際社会で求められる役割も大きくなり、その重要性も増していった。

問24 1955 年以降の高度経済成長期に所得倍増計画というスローガンを掲げて経済成長を促進した首相は誰か。次から 1 つ選び、解答欄の記号を○で囲め。

ア：田中角栄      イ：吉田茂      ウ：細川<sup>もりひろ</sup>護熙      エ：池田勇人

問25 1990 年代以降、日本は国際紛争に対して自衛隊の派遣など国際連合の平和維持活動を通して協力していく。このような国連の平和維持活動のことをアルファベット 3 字で答えよ。

3 次の A・B の文章を読み、あとの設問に答えなさい。

A 企業について

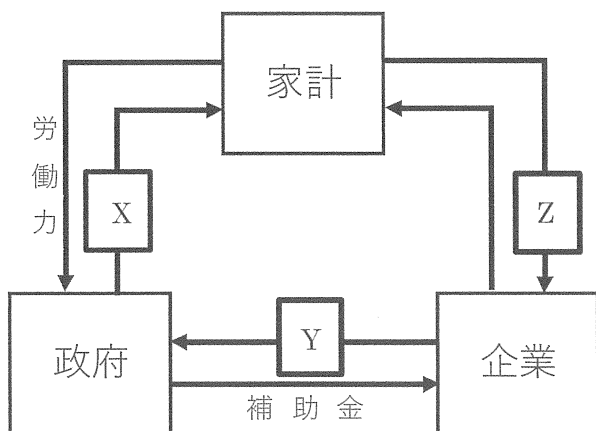
日本には多くの(a)企業があり、企業の約 99%が中小企業です。企業の活動は社会にさまざまな影響を与えます。例えば(b)高度経済成長期に起きた(c)公害は、企業が社会に与えた影響の一つです。また、1980 年代後半から 1990 年代初めの [ ] と呼ばれる時期は多くの企業が利益を獲得し、(d)従業員への給料も増加したこともあり、(e)社会に大きな影響を及ぼす好景気となりました。

企業で働く労働者は、第二次世界大戦後、(f)日本国憲法によって労働三権が保障されるようになりました。そして、労働三権を具体化するために(g)労働三法が制定され、労働者の権利を守っています。

問1 文中の [ ] にあてはまる景気の名称を 5 字で答えよ。

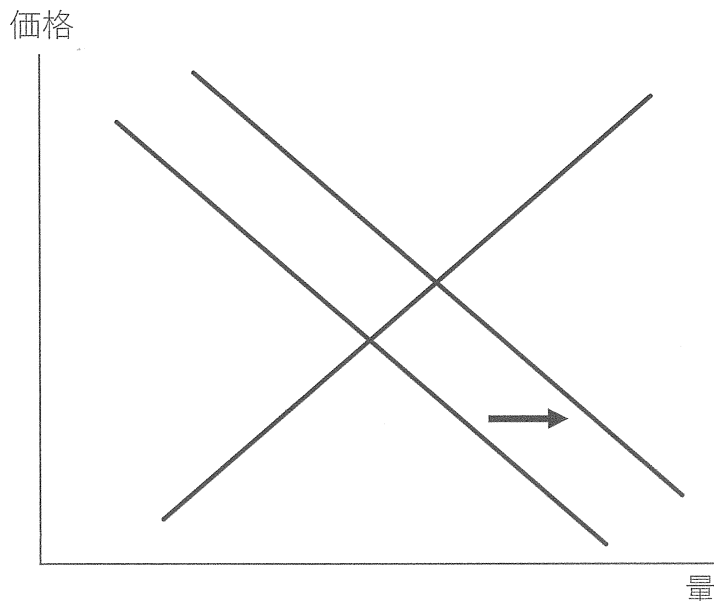
問2 下線部(a)について、以下の図は三つの経済主体の関係を示したものである。

図中の [ X ] ~ [ Z ] にあてはまるものの組み合わせとして最も適当なものを右の表のア~カから 1 つ選び、解答欄の記号を○で囲め。



	X	Y	Z
ア	賃金	税金	代金
イ	賃金	代金	税金
ウ	税金	代金	賃金
エ	税金	賃金	代金
オ	代金	賃金	税金
カ	代金	税金	賃金

問3 下線部(b)について、次の図はある市場における需要曲線・供給曲線を示したものである。高度経済成長期に起きた出来事によって、ある市場の需要曲線が右に移動した。需要曲線が移動した高度経済成長期特有の理由として最も適当なものを下から1つ選び、解答欄の記号を○で囲め。



- ア：技術革新により大量生産が出来るようになった。
- イ：土地や株の価格が実態以上に上昇した。
- ウ：冷蔵庫や洗濯機といった新しい商品が販売された。
- エ：消費税が導入された。

問4 下線部(c)について、19世紀末に渡良瀬川流域で起こった日本初の公害事件は何か。漢字で答えよ。

問5 下線部(d)について、給料を得た労働者は所得税を納めなければならないが、所得税の説明として最も適当なものを次から1つ選び、解答欄の記号を○で囲め。

- ア：国税の一つであり、課税対象額が高額なほど、税率が高くなる税。
- イ：国税の一つであり、課税対象額に関わらず、一定の税率が課される税。
- ウ：地方税の一つであり、課税対象額が高額なほど、税率が高くなる税。
- エ：地方税の一つであり、課税対象額に関わらず、一定の税率が課される税。



問6 下線部(e)について、好景気のときの状況を述べた文として誤っているものを次から1つ選び、解答欄の記号を○で囲め。

- ア：企業の生産が拡大し、雇用者数が増加する。
- イ：家計の消費が増え、物価が上昇する。
- ウ：税収入が増加し、国債発行額が減少する。
- エ：政府は公共事業を増やし、失業者数が減少する。

問7 下線部(f)について、以下の表は大日本帝国憲法と日本国憲法を比較したものである。表にある  ・  ・  にあてはまる語句の組み合わせとして正しいものを下から1つ選び、解答欄の記号を○で囲め。

大日本帝国憲法		日本国憲法
<input type="text" value="A"/> 主権	主権	<input type="text" value="B"/> 主権
<input type="text" value="C"/> の範囲内で 権利が認められる	国民の権利	永久不可侵の 基本的人権を保障
<input type="text" value="D"/> ・ 納税	国民の義務	普通教育を受けさせる・ 納税 ・ <input type="text" value="E"/>

	<input type="text" value="A"/>	<input type="text" value="C"/>	<input type="text" value="E"/>
ア	国民	憲法	勤労
イ	国民	憲法	兵役
ウ	国民	法律	勤労
エ	国民	法律	兵役
オ	天皇	憲法	勤労
カ	天皇	憲法	兵役
キ	天皇	法律	勤労
ク	天皇	法律	兵役

問8 下線部(g)について、労働三法の一つである労働基準法についての記述として最も適当なものを次から1つ選び、解答欄の記号を○で囲め。

- ア：労働時間は1日8時間以内、週48時間以内にしなければならない。
- イ：休憩時間についての規定はなく、労働者は自由に休憩を取ってもよい。
- ウ：1週間に少なくとも1日以上の日を与えなければならない。
- エ：18歳未満の子どもを働かせてはならない。

## B 政治について

国の政治は、立法権を持つ国会、行政権を持つ内閣、(h)司法権を持つ裁判所の三つの機関を中心に行われており、それぞれ独立した機関に担当させる(i)三権分立を採っています。その中でも、国権の最高機関である国会が、三権の中でも重要な地位にあります。国会では、(j)選挙で選ばれた国会議員によって話し合いが進められます。選挙権は、2022年の民法改正による(k)成年年齢の引き下げもあり、2023年時点では18歳以上のすべての国民に認められています。現在、有権者の約50%は女性ですが、(l)国会議員に占める女性議員の割合は15.6%になっています。

地方の政治は地方公共団体が主体になっており、地方公共団体には(m)都道府県、市区町村などがあります。地方公共団体は地域住民によって運営され、国から自立した地方公共団体を作るという原則が、日本国憲法によって保障されています。(n)地方自治は、民主政治の基礎を学ぶことが出来る場であることから、イギリスの政治家ブライスは「地方自治は□□□□」と表現しました。

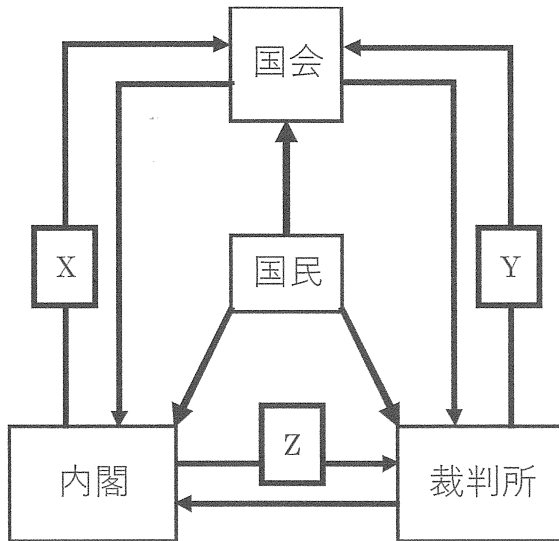
問9 文中の□□□□にあてはまる言葉を答えよ。

問10 下線部(h)について、以下の条文の空欄□ X □・□ Y □にあてはまる語句をそれぞれ漢字2字で答えよ。

第76条 すべて司法権は、最高裁判所及び法律の定めるところにより設置する□ X □裁判所に属する。

第81条 最高裁判所は、一切の法律、命令、規則又は処分が憲法に適合するかしないかを決定する権限を有する□ Y □裁判所である。

問11 下線部(i)について、以下の図の空欄 **X** ~ **Z** にあてはまる内容として最も適当なものをア~カからそれぞれ1つずつ選び、解答欄の記号を○で囲め。



- ア：弾劾裁判所の設置
- イ：選挙の実施
- ウ：内閣の不信任決議
- エ：国会召集の決定
- オ：最高裁判所長官の指名
- カ：法律の違憲審査

問12 下線部(j)について、以下の問いに答えよ。

① 以下の表は、比例代表選挙における選挙結果である。この結果においてドント式によって5議席を配分するとした場合、A党は何議席獲得することができるか。

政党名	A党	B党	C党
得票数	810票	570票	240票

② 選挙制度を説明した以下の文I・IIについて、その正誤の組み合わせとして最も適当なものを次から1つ選び、解答欄の記号を○で囲め。

- I…小選挙区制は、政局が安定する長所がある一方、死票が多くなる。
- II…大選挙区制は、政党本位の選挙になる一方、多額の選挙費用が必要となる。

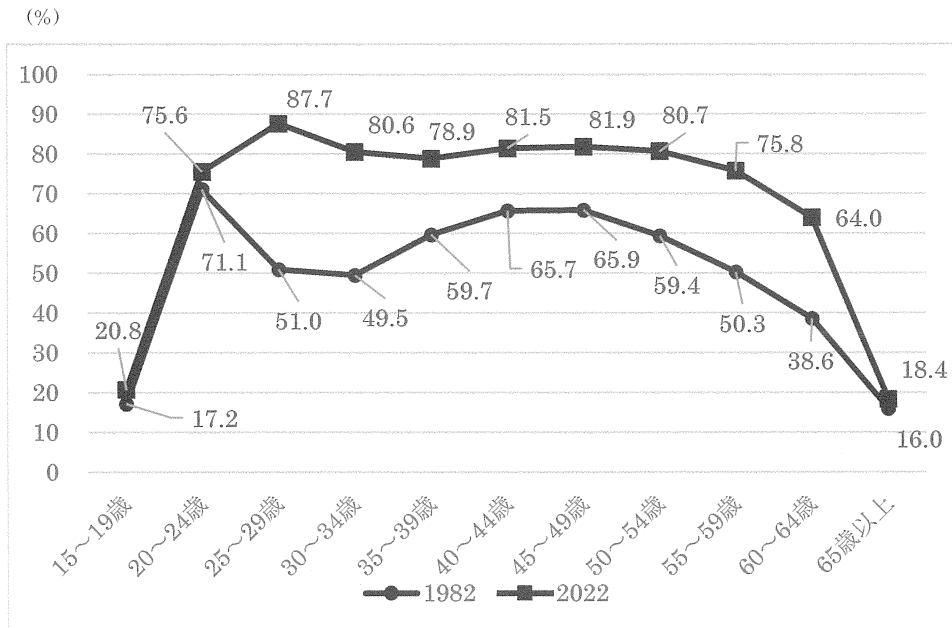
ア：I－正	II－正	イ：I－正	II－誤
ウ：I－誤	II－正	エ：I－誤	II－誤

問13 下線部(k)について、20歳になって初めて認められるものとして、最も適当なものを次から1つ選び、解答欄の記号を○で囲め。

- ア：飲酒・喫煙が可能となる。
- イ：クレジットカードの作成ができる。
- ウ：裁判員名簿に記載される。
- エ：婚姻することができる。

問14 下線部(l)について、以下のグラフは女性の年齢階級別労働力率を示したものである。2022年と40年前の1982年を比較した際の変化の理由として以下の2つの語句を用いて、簡潔に説明せよ。

出産      育児



「独立行政法人 労働政策研究・研修機構」のホームページより作成

問15 下線部(m)について、以下の問いに答えよ。

- ① 2023年時点で、都道府県知事に女性が就いているのは東京都とあと一か所である。もう一つの道府県はどこか、正しい道府県を次から1つ選び、解答欄の記号を○で囲め。

ア：大阪府      イ：北海道      ウ：沖縄県      エ：山形県      オ：静岡県

- ② 2021年の夏季オリンピックは東京都などで開催されたが、次回の夏季オリンピック開催予定国の2023年時点での元首として最も適当なものを次から1つ選び、解答欄の記号を○で囲め。

ア：エマニュエル・マクロン      イ：習近平  
ウ：セルジョ・マッタレッタ      エ：ジョー・バイデン

問16 下線部(n)について述べた文として誤っているものを次から1つ選び、解答欄の記号を○で囲め。

- ア：条例を制定・改正・廃止することができる。  
イ：地方公共団体独自の税金を徴収することができる。  
ウ：地方議員の中から、住民の投票によって首長が選出される。  
エ：地方公共団体の政策について、住民投票等によって意見を聞くことができる。

【以下、余白】

1	問1	ア イ ウ エ オ
	問2	ア イ ウ エ オ カ
	問3	ア イ ウ エ
	問4	
	問5	ア イ ウ エ
	問6	
	問7	
	問8	
	問9	ア イ ウ エ
	問10	ア イ ウ エ
	問11	
	問12	ア イ ウ エ
	問13	時間 分
	問14	ア イ ウ エ
	問15	(1)
	問15	(2)
問15	(3)	
問16	ア イ ウ エ	

2	問1	ア イ ウ エ
	問2	ア イ ウ エ
	問3	ア イ ウ エ
	問4	
	問5	ア イ ウ エ
	問6	ア イ ウ エ
	問7	
	問8	ア イ ウ エ
	問9	ア イ ウ エ オ
	問10	
	問11	
	問12	ア イ ウ エ
	問13	ア イ ウ エ
	問14	ア イ ウ エ
	問15	ア イ ウ エ
	問16	ア イ ウ エ オ カ
	問17	ア イ ウ エ
	問18	
	問19	ア イ ウ エ
	問20	
	問21	ア イ ウ エ オ カ
	問22	
	問23	
	問24	ア イ ウ エ
	問25	

3	問1	
	問2	ア イ ウ エ オ カ
	問3	ア イ ウ エ
	問4	事件
	問5	ア イ ウ エ
	問6	ア イ ウ エ
	問7	ア イ ウ エ オ カ キ ク
	問8	ア イ ウ エ
	問9	
	問10	X
	問10	Y
	問11	X ア イ ウ エ オ カ
	問11	Y ア イ ウ エ オ カ
	問11	Z ア イ ウ エ オ カ
	問12	① 議席
	問12	② ア イ ウ エ
問13	ア イ ウ エ	
問14		
問15	① ア イ ウ エ オ	
問15	② ア イ ウ エ	
問16	ア イ ウ エ	

合 計	
--------	--