

令和6年度

帝塚山学院泉ヶ丘中学校

入学者選抜試験問題

1次A入試

社会

(試験時間40分)

受験番号	
------	--

1 次の各文章を読み、あとの問いに答えなさい。

【日本の漁業について】

日本では(a)多くの魚料理が知られていますが、日本の漁獲量は減っています。魚介類は、天然、養殖、輸入などのラベルが貼られ、出荷されます。

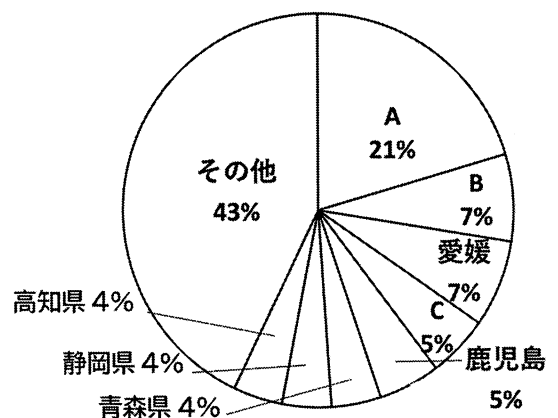
日本近海は、暖流と寒流がぶつかる潮目があり、大陸棚が多いので、(b)魚の種類が豊富で良い漁場になっています。日本には(c)伝統的な漁法がたくさんある一方、(d)漁業に従事する人は減り、高齢化が問題になっています。

問1 下線部(a)について、次の表は、各国の年間漁獲量と一人あたりの魚介類の消費量を示したものであり、表中のア～エには、アメリカ、インド、中国、日本のいずれかがあてはまります。日本にあてはまるものを次から1つ選び、解答欄の記号を○で囲みなさい。

	年間漁獲量 (千 t)	一人あたりの 魚介類消費量 (kg/年)
ア	14,170	51.1
イ	5,477	6.9
ウ	4,804	22.2
エ	3,231	47.0

2019年『日本国勢図会 2022/23』より作成

問2 下線部(b)について、右のグラフは、都道府県別漁業生産額（川や湖での漁業生産額は除く）の割合を示したものです。グラフ中のAにあてはまる都道府県でおもに水揚げされる魚介類として誤っているものを次から1つ選び、解答欄の記号を○で囲みなさい。



2021年 水産庁ホームページより作成

ア：たら

イ：にしん

ウ：かれい

エ：くるまえび

問3 下線部(c)について、巻き網漁業^{あみ}について述べた文として最も適当なものを次から1つ選び、解答欄の記号を○で囲みなさい。

ア：100km以上に及ぶ縄^{およ}に枝縄をつけて、魚を傷つけずに水揚げする方法。

イ：魚の通り道に、くいやイカリなどで網を固定し、回遊してくる魚を閉じ込める方法。

ウ：大きな袋状^{あぐろじょう}の網を海底に沈めて引き網で引っ張る方法。

エ：魚群探知機などで魚の群れを探し、船団を組んで巨大な網を使って水揚げする方法。

問4 下線部(d)について、漁業に従事する人が減っていることが懸念^{けん}されています。日本の漁業における取り組みとして誤っているものを次から1つ選び、解答欄の記号を○で囲みなさい。

ア：若い人が働きやすいように生産量を安定化させ、収入の向上をはかる。

イ：道路網^{もつ}を整備し、交通の便を良くする。

ウ：ICTを活用して効率の良い漁獲を目指す。

エ：高価で質の良い魚を生産する。

問5 日本国内の多くの漁港では、出荷先に輸送する際にトラックを用いることが多いです。魚介類をトラックで運ぶ理由を述べた次の文の空欄にあてはまる適語を答えなさい。

船舶^{せんぱく}よりも（ ）運ぶことができるから。

【日本の農牧業について】

ある日のスーパーマーケットの広告をながめると、大阪に出荷される野菜や果物、畜産物^{ちくさん}などの産地は全国にとどまらず、世界各地に及んでいることが分かります。(e)それぞれの食品は、産地の自然環境と大きく関わります。

わたしたちがスーパーマーケットで目にする野菜などは国産のものが多い一方、第一次産業全体に目を向けると外国産のものが多いことに気が付きます。日本の第一次産業は外国産と差別化をはかるため、(f)付加価値を高めるなどの努力をしています。しかし、(g)日本における第一次産業従事者は減少傾向^{けいこう}にあります。

問6 下線部(e)について、農業と土や地形には大きな関係があります。これらについて述べた文として誤っているものを次から1つ選び、解答欄の記号を○で囲みなさい。

ア：ワサビはきれいな水でしか生育しないため、斜面の下など、ろ過された湧き水があるところでの栽培に向いている。

イ：らっきょうは極めて水持ちの良い土壌^{どじょう}を好むため、平野部など細かい土砂が堆積^{たいせき}したところでの栽培に向いている。

ウ：キャベツはやせた土地でも育つため、噴火^{ふんか}の影響を受けやすい浅間山付近で多く栽培されている。

エ：ほうれん草は比較的どの地域でも育つが、衝撃^{しょうげき}に弱いため、大都市に近いところで多く栽培されている。

問7 下線部(f)について、日本の第一次産業は今までとは違う工夫をして付加価値を高める努力をしています。その工夫について述べた文として誤っているものを次から1つ選び、解答欄の記号を○で囲みなさい。

ア：農業では、生産・加工・販売までを行う第6次産業が注目されている。

イ：畜産では、豚においしいえさを与え質の良い肉を出荷している。

ウ：漁業では、漁に出る期間を漁師間で決め、効率的に大量の魚を獲っている。

エ：米作では、農薬を使わないことで安全なコメを出荷している。

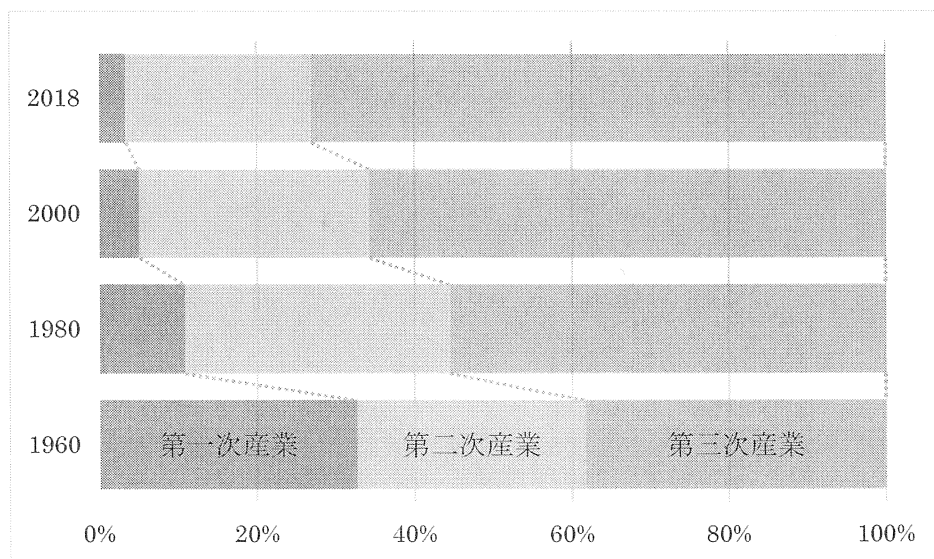
問8 下線部(g)について、日本の第一次産業では、近年 ICT 化が進んでいます。
出荷時に生産者をひもづけることで、消費者に生産者の情報が伝わる取り組みを意味する言葉を次から1つ選び、解答欄の記号を○で囲みなさい。

ア：スマートアグリ	イ：トレーサビリティ
ウ：POS システム	エ：カントリーエレベーター

問9 下線部(g)について、高度経済成長期と現在では日本における産業別人口の割合が大きく変化しました。これについて述べた次の文の空欄にあてはまる適語の組み合わせとして最も適当なものを、下のグラフも参考にして次から1つ選び、解答欄の記号を○で囲みなさい。

高度経済成長期以降、現在まで日本における第三次産業の人口割合は [A] と大きく増加しました。一方、第一次産業は [B] と大幅に減りました。現在の国土面積における土地利用のうち、最も多いのは [C] です。

	A	B	C
ア	約30%から約60%	約10%から約5%	田
イ	約30%から約60%	約30%から約3%	工業地
ウ	約30%から約60%	約10%から約5%	宅地
エ	約40%から約70%	約30%から約3%	田
オ	約40%から約70%	約10%から約5%	工業地
カ	約40%から約70%	約30%から約3%	宅地



産業三部門別の就業者数の推移 総務省労働力調査などから作成

【環境問題について】

日本では、高度経済成長期に深刻な環境問題が起きました。当時は、下水道が整備されていなかったこともあり、水質汚濁が進みました。

(h)大気汚染や温暖化は国境を越えた問題となっています。 (i)持続可能な社会を実現するために、日本は先進国として(j)温室効果ガスをはじめとした削減目標を実現する責任があります。

問10 下線部(h)について、近年、温暖化や環境破壊が進み、日本でもその対策が急がれています。その対策として誤っているものを次から1つ選び、解答欄の記号を○で囲みなさい。

ア：高度な技術を用いて丈夫で薄い鉄を作り、あらゆるものの軽量化をはかっている。

イ：燃料から不純物を取り除くことで、汚染物質の拡散を減らしている。

ウ：石油会社で炭素ステーションをつくるなど温室効果ガスの削減のための整備を進めている

エ：石油化学コンビナートでは、工場を近隣に作ることで輸送にかかわる排気ガスの量を減らしている。

問11 下線部(i)について、「持続可能な開発目標」のなかには、「ジェンダー平等」や「人や国の不平等をなくそう」など、多様性の実現を目標に掲げています。

「多様性」「多様な人々が共存する状態」を示す言葉をカタカナ7字で答えなさい。

問12 下線部(j)について、次の文は第 21 回国連気候変動枠組み条約締約国会議 (COP21) について述べたものです。空欄にあてはまる適語の組み合わせとして正しいものを次から 1 つ選び、解答欄の記号を○で囲みなさい。

2015 年に開かれた COP21 で採択された「[A] 協定」では、2020 年以降の温暖化対策として国際ルールを定め、「世界の気温上昇を [B] 以前と比べて 2 度より十分低く保ち、1.5 度に抑える努力をする」ことを目標に掲げた。

	A	B
ア	リオデジャネイロ	産業革命
イ	リオデジャネイロ	第二次世界大戦
ウ	パ リ	産業革命
エ	パ リ	第二次世界大戦
オ	京 都	産業革命
カ	京 都	第二次世界大戦

【防災について】

日本では(k)さまざまな災害が起きています。地震や津波、噴火など、地下深くからの大きなエネルギーとともに起こる災害と、風水害など、地表で起こる災害があります。特に地表でおこる災害において、森林が果たす役割は大きいです。日本には(l)多くの森林があることから、(m)森林の手入れも欠かせません。日本に住むわれわれは、(n)防災意識をアップデートしていく必要があります。

問13 下線部(k)について、豪雨によって引き起こされる災害が起きるとき、避難の目安になる前ぶれとして誤っているものを次から 1 つ選び、解答欄の記号を○で囲みなさい。

- ア：がけにひび割れができる。
- イ：斜面から水が湧き出す。
- ウ：急に川の水がにごり流木が混ざる。
- エ：海底から音が鳴り響く。

問14 下線部(l)について、日本の国土面積に占める森林の割合として最も適当なものを次から1つ選び、解答欄の記号を○で囲みなさい。

ア：約6割	イ：約7割	ウ：約8割	エ：約9割
-------	-------	-------	-------

問15 下線部(m)について、森林の役割や環境に配慮した取り組みについて述べた文として**誤っているもの**を次から1つ選び、解答欄の記号を○で囲みなさい。

ア：河川の上流の森林は、沖合の水資源の環境を守ることにつながる。

イ：森林は防砂林・防雪林などの役割があり、ほかにも土砂災害などの被害を軽減することができる。

ウ：森林には水をたくわえる機能があり、飲み水の確保につながる。

エ：森林には、空気をきれいにしたり、生態系を保護する役割がある。

問16 下線部(n)について、災害対策として**誤っているもの**を次から1つ選び、解答欄の記号を○で囲みなさい。

ア：ハザードマップで自宅の浸水予想が50 cmだった場合、高台の公民館など避難できる場所を探しておく。

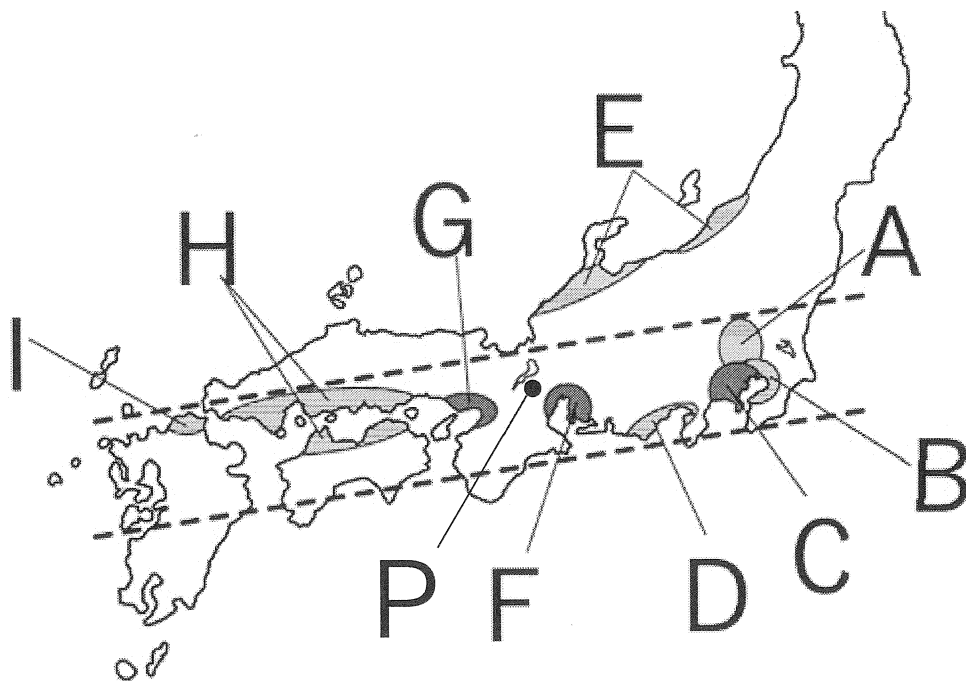
イ：日頃の備えだけでなく、緊急地震速報など地震が起きる直前の備えを大切にする。

ウ：火山や大雪による災害は予測ができるので、前ぶれがあるときは警報などの情報に注意する。

エ：ローリングストックのために野菜や魚を常備しておく。

【日本の工業について】

地図中のA～Iは、日本のおもな工業地帯、工業地域を示しています。

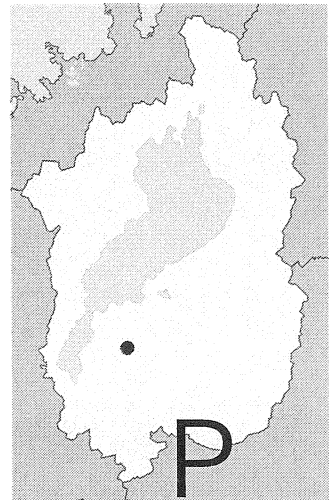


問17 右の表中のア～オは地図中のA～Iの工業地帯・工業地域のいずれかのうち、工業生産額上位5位を示したものです。このうち、戦国武将の織田信長の出身地を含む工業地帯・工業地域にあてはまるものを右から1つ選び、解答欄の記号を○で囲みなさい。

	工業生産額 2019年（億円）
ア	586,400
イ	332,000
ウ	317,100
エ	310,200
オ	249,100

『データブック・オブ・ザ・ワールド2023』より

問18 右の図は前ページの地図中 **P** の地点を拡大したものです。この地域は、工場が多いことで知られています。この地域に工場が多い理由を、「土地が安いこと」と「人が多いこと」以外の理由で説明しなさい。



問19 次の表は、港別輸出額と上位3位までの輸出品目を示したものです。表中のア～オには、成田国際空港、名古屋港、関西国際空港、横浜港、博多港のいずれかがあてはまります。成田国際空港にあてはまるものを選び、解答欄の記号を○で囲みなさい。

	輸出額 (億円)	上位3位までの 輸出品目 (%)
ア	104,137	自動車 (24.6)、自動車部品 (16.6)、原動機 (4.3)
イ	101,588	半導体等製造装置 (8.4)、電子部品 (7.3)、光学機器 (5.5)
ウ	58,200	自動車 (15.9)、原動機 (5.3)、プラスチック (4.7)
エ	49,899	電子部品 (28.6)、電気回路 (6.2)、光学機器 (6.2)
オ	28,109	自動車 (28.7)、電子部品 (27.9)、半導体等製造装置 (3.5)

※表中の「原動機」とはエンジンを動かすためのもののことであり、「光学機器」とは、カメラなどレンズを用いた製品のことです。

統計は 2020 年、『地理統計 2023』より作成

- 2 晴子さんは、日本の世界遺産について調べ、A～Iのカードにまとめました。これらのカードについて、あとの問いに答えなさい。

A 百舌鳥古市古墳群

大仙古墳は、ほりの内側の部分の全長が約 a m、はばが約 b mもある日本最大のものであり、その形は前方後円墳と呼ばれ、大和（奈良県）や河内（大阪府）にも数多くみられます。これは、この地域の豪族たちが、強い勢力をもっていたためだと考えられています。この豪族たちは、後に連合して大和朝廷を組織し、九州から関東までの豪族を従えるようになりました。

問1 文中の a ・ b にあてはまる数字の組み合わせとして正しいものを、次から1つ選び、解答欄の記号を○で囲みなさい。

- ア：a-240 b-300
イ：a-240 b-600
ウ：a-480 b-300
エ：a-480 b-600

問2 カードAについて、ワカタケルの名を記した鉄剣が出土した埼玉県にある古墳の名前を答えなさい。

B 富岡製糸場と絹産業遺産群

明治時代、政府は質の良い生糸をたくさんつくろうと考え、絹産業の近代化をめざしました。富岡製糸場は全国の器械製糸のお手本となるよう、外国の技術を取り入れ、日本に合わせた工夫を加えて1872年に建てられました。質の良い生糸をたくさんつくる技術を開発したこと、その技術を世界に広めたことを今に伝えるのが「富岡製糸場と絹産業遺産群」です。

問3 カードBについて、明治政府が行った政策の順として正しいものを次から1つ選び、解答欄の記号を○で囲みなさい。

- ア：廃藩置県 → 版籍奉還 → 大日本帝国憲法の発布 → 領事裁判権の撤廃
イ：廃藩置県 → 版籍奉還 → 領事裁判権の撤廃 → 大日本帝国憲法の発布
ウ：版籍奉還 → 廃藩置県 → 大日本帝国憲法の発布 → 領事裁判権の撤廃
エ：版籍奉還 → 廃藩置県 → 領事裁判権の撤廃 → 大日本帝国憲法の発布

問4 カードBについて、明治時代の1870年代に実施されたことらについて述べた文として**誤っているもの**を次から1つ選び、解答欄の記号を○で囲みなさい。

ア：日本で最初の鉄道が新橋・横浜間で開通した。

イ：近代的な郵便制度が前島密によって整えられた。

ウ：学校制度をつくり、一定の年齢のすべての子どもに教育を受けさせようとした。

エ：造船や機械などの重工業も発達し、北九州に八幡製鉄所やはたがつくられた。

C 石見銀山遺跡とその文化的景観

石見銀山は16～17世紀には、世界第2位の銀の産出量を誇り、良質の銀としてポルトガルやスペインなどヨーロッパへ輸出していました。また、その当時活躍した豊臣秀吉は、戦いでうばった多くの領地をもったほか、貿易で栄えた堺・博多・長崎などの都市や、石見銀山などの鉱山を直接支配して、大きな利益を手に入れました。

問5 カードCについて、銀などを輸出したポルトガル人やスペイン人との貿易を何といいますか。**漢字**で答えなさい。

問6 カードCについて、豊臣秀吉の政策として**誤っているもの**を次から1つ選び、解答欄の記号を○で囲みなさい。

ア：武士と町人は城下町、ひやくしやう百姓は村など住む場所がわけられた。

イ：反乱を防止するため、武士から刀や鉄砲てっぽうなどを取り上げた。

ウ：日本国内におけるキリスト教布教に対する危機を覚え、宣教師を追放する法令を出した。

エ：全国に役人を派遣はけんして、村ごとに検地をおこない、田畑の面積を測った。

D 法隆寺地域の仏教建造物

法隆寺は 607 年、聖徳太子によって建立されました。7000 m²もの敷地には 125 棟もの建物が並び、38 件の国宝、151 件の重要文化財があります。日本美術の宝庫であると同時に、諸外国の文化の影響をみることができます。

問 7 カード D について、なぜ法隆寺は世界文化遺産に登録されているのですか。簡単に説明しなさい。

問 8 カード D について、次の資料は、聖徳太子が定めた十七条の憲法の部分要約です。資料中の空欄 **a** にあてはまる語句を漢字 2 字で答えなさい。

十七条の憲法（一部）

- 一、人の和を第一にしなければなりません。
- 二、**a** をあつく信仰しなさい。
- 三、天皇の命令は、必ず守りなさい。

E 古都奈良の文化財

710 年～784 年までの 74 年間、平城京が置かれたのが奈良県奈良市です。平城京は唐の都長安をモデルとし、^{こぼん}碁盤の目状に走る道路で整然と区画されました。ここを舞台に、唐の影響を受けた国際色豊かな天平文化が栄えました。世界遺産に登録されているのは、平城京跡や東大寺、春日大社など 8 件です。

問 9 カード E について、日本からも多くの人々が唐に渡りましたが、その中でも 16 才の時に留学生として唐にわたり、次の歌をよんだ人物を次から 1 つ選び、解答欄の記号を○で囲みなさい。

「天の原ふりさけ見れば春日なる 三笠の山に出でし月かも」

ア：阿倍仲麻呂 イ：菅原道真 ウ：鑑真 エ：藤原道長

問10 カードEについて、奈良時代に編さんされた歴史書や和歌集について述べた文として誤っているものを次から1つ選び、解答欄の記号を○で囲みなさい。

ア：国ごとに、自然、産物、伝説などをまとめた『風土記』がつくられた。

イ：日本最初の和歌集で、天皇がよんだ歌だけが集められた『万葉集』がつくられた。

ウ：中国の歴史書にならって編さんされ、神話の時代から持統天皇の時代までをまとめた『日本書紀』がつくられた。

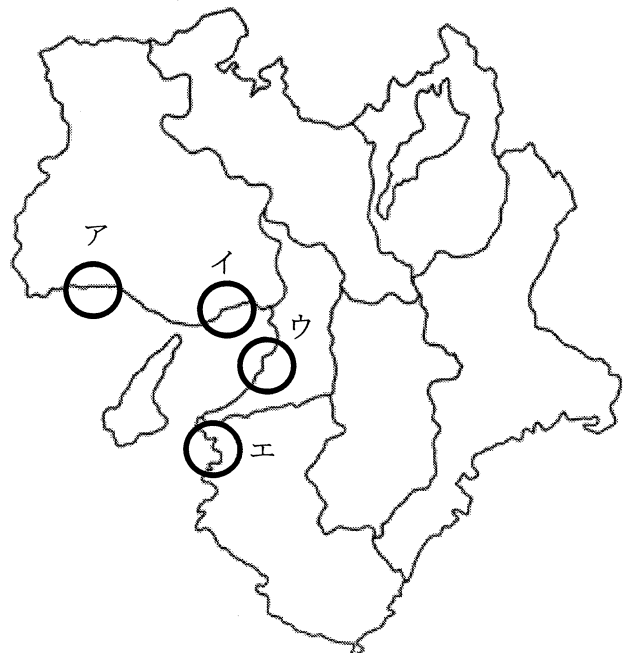
エ：神話の時代から推古天皇までをまとめた『古事記』がつくられた。

F 巖島神社

日本三景のひとつ、安芸の宮島を代表する建築物が巖島神社です。現在見られる巖島神社の造営をおこなったのは、12世紀、平家の栄華を築いた平清盛です。そこには平安時代の貴族の住居である の様式がとり入れられており、度重なる再建にもかかわらず平安時代の面影をいまに伝えています。

問11 カードFの空欄 には、このころの貴族の邸宅（住居）の建築様式をあらわすことばが入ります。あてはまることばを、漢字3字で答えなさい。

問12 カードFについて、平清盛によって行われた日宋貿易の貿易港があった大輪田泊の場所を、右から1つ選び、解答欄の記号を○で囲みなさい。



問13 カードFについて、平清盛が1167年に武士として初めてついた役職を何といますか。漢字で答えなさい。

G 富士山

富士山は、昔から何回も噴火をしています。富士山が最後に噴火したのは、今から約300年前の江戸時代です。当時の年号を「宝永」といいましたので、この噴火を「宝永噴火」といいます。宝永噴火では、富士山から約100km離れた江戸の町にも、火山灰が降り積もりました。

問14 カードGについて、風景画の浮世絵「富嶽三十六景」を描いた人物を答えなさい。

問15 カードGについて、この時代に活躍した人物に徳川吉宗がいます。吉宗が人々の意見を聞くために設置したものを何と言いますか。漢字3字で答えなさい。

H 古都京都の文化財

794年に行われた平安京遷都以来、京都は日本の都として1000年もの歴史を刻んだ都市です。そのため、現在国宝に指定されている建造物や特別名勝となっている庭園など多くの文化財が残されており、古都の華やかな雰囲気をも今に伝えています。

問16 カードHについて、足利義満に**関係しないもの**を次から1つ選び、解答欄の記号を○で囲みなさい。

ア：2つにわかれていた朝廷を1つにまとめた。

イ：京都の室町に花の御所をつくり、政治を行った。

ウ：京都の北山に金閣とよばれる別荘を建てた。

エ：武士の慣習などをもとに51か条からなる御成敗式目を制定した。

問17 カードHについて、京都を舞台に戦った応仁の乱の影響として正しいものを次から1つ選び、解答欄の記号を○で囲みなさい。

ア：室町幕府は応仁の乱によって滅亡した。

イ：将軍の足利義政は、乱をしずめるために守護大名をなくし、幕府の力が強まっていった。

ウ：この乱以降、身分の低い者が強いものを倒す下剋上の風潮が広まった。

エ：戦乱中も京都の町では祇園祭が開催されていた。

I 日光の社寺

日光の社寺の中心的存在である日光東照宮は、江戸幕府の初代将軍である徳川家康をまつっている神社です。3代将軍徳川家光は、日光東照宮を大規模に建て直し、全国の大名を引き連れて参拝をくり返すことで、大名たちに幕府の力を見せつけていきました。

問18 カードIについて、徳川家康が発行した、日本船の渡航を認める許可状を使用した貿易を何といいますか。

問19 カードIについて、江戸幕府のしくみとして正しいものを次から1つ選び、解答欄の記号を○で囲みなさい。

ア：朝廷を監視するために、京都に六波羅探題を置いた。

イ：臨時の最高職として、譜代大名のなかから大老が任命された。

ウ：大名を監視するために、諸国に守護を置いた。

エ：将軍を補佐する役職として、親藩の大名のなかから管領が任命された。

問20 カードIについて、徳川家光の政治を述べた文として誤っているものを次から1つ選び、解答欄の記号を○で囲みなさい。

ア：外様大名でも有能であれば積極的に幕府の重要な役職につけた。

イ：大名に1年ごとに江戸と領地を往復させる参勤交代の制度を整えた。

ウ：日本人が海外にわたることや、海外から日本に帰ってくることを禁止した。

エ：九州の島原や天草でキリスト教信者が一揆をおこすと、大軍を送って一揆をおさえた。

問21 カードA～Iの世界遺産の場所に**含まれない**都道府県を次から**すべて**選び、
解答欄の記号を○で囲みなさい。

ア：広島県	イ：茨城県	ウ：鳥取県
エ：山口県	オ：群馬県	カ：栃木県

- 3 1946年11月3日、日本国憲法が公布され、翌1947年5月3日に施行されました。日本国憲法は前文とそれに続く第1章から11章、合計103条から構成されています。いくつかの章の内容について、A～Fにまとめてみました。これらについて、あとの問いに答えなさい。

A 第1章は天皇について書かれています。

大日本帝国憲法のもとの天皇に比べ、その立場は大きく変わりました。大日本帝国憲法では、天皇は国を治める主権を持っていましたが、日本国憲法では国の(a)とされ、内閣の助言と(b)にもとづいて憲法に定められている(c)国事行為を行うことになっています。

問1 文章中の空欄(a)・(b)にあてはまる語句をそれぞれ漢字2字で答えなさい。

問2 下線部(c)の内容として誤っているものを次から1つ選び、解答欄の記号を○で囲みなさい。

- ア：国会議員の総選挙の施行を国民に知らせる。
- イ：内閣総理大臣およびその他の大臣を任命する。
- ウ：外交の文書を認める。
- エ：憲法改正、法律、条約を公布する。

B 第2章は戦争放棄について書かれています。

第二次世界大戦中、日本では空襲、沖縄戦、(d)広島と長崎への原子爆弾の投下などで多くの命が犠牲になりました。憲法の前文には、平和への誓いと決意が示され、(e)憲法第9条には外国との争いを絶対に戦争という手段で解決をしないということを具体的に記しています。また、唯一の被爆国として非核三原則を宣言するとともに、核兵器廃絶を求め1955年以降、毎年(f)を開催しています。

問3 下線部(d)の都市で、昨年(こぞ)の5月19日から21日まで、日本を議長国として国際会議「G7()」が開催されました。()にあてはまる語句をカタカナで答えなさい。

問4 下線部(e)について、次の憲法第9条の二項の条文の空欄にあてはまる語句を漢字で答えなさい。

「前項の目的を達するため、陸海空軍その他の戦力は、これを保持しない。国の()は、これを認めない。」

問5 文章中の空欄(f)にあてはまる語句を漢字9字で答えなさい。

C 第3章は国民の権利及び義務について書かれています。

憲法の原則の一つに基本的人権の尊重があります。その中で、(g)自由権や(h)平等権などについての国民の権利を保障するだけでなく(i)国民が果たさなければならない義務についても定めています。権利は行使するだけでなく、互いの権利を尊重し合うことも大切です。

問6 下線部(g)について説明した次の文章として正しいものを次から1つ選び、解答欄の記号を○で囲みなさい。

ア：労働者が、自分たちの労働条件をより良くするために団結する。

イ：作家が、取材した内容をもとにして小説を書く。

ウ：市議会議員に立候補して、みずから政治に参加する。

エ：知り合いとのお金の貸し借りのトラブルの解決のために裁判をおこす。

問7 下線部(h)について、昨年6月に世界経済フォーラムが発表した「ジェンダー・ギャップ・レポート」の男女平等ランキングでは、以下の4項目について男性に対する女性の割合が示されました。この中で日本において最も女性の比率が低い項目として正しいものを次から1つ選び、解答欄の記号を○で囲みなさい。

ア：健康…健康^{じゅんみょう}寿命の男女比など

イ：教育…初等～高等教育を受ける男女比など

ウ：経済参画…同じ労働において男女の給料の格差など

エ：政治参画…国会議員や国務大臣の男女比など

※参画：単に参加するだけでなく、事業や計画に加わること。

問8 下線部(i)について、憲法で国民の権利であると同時に義務であると定められているものとして正しいものを次から1つ選び、解答欄の記号を○で囲みなさい。

ア：教育を受ける

イ：選挙で投票に行く

ウ：仕事について働く

エ：税金を納める

D 第4章は国会のことについて書かれています。

国会は国の政治の方向を決める重要な機関です。(j)衆議院と参議院とで構成され、法律、(k)国の予算、条約の承認などについて話し合いを行い、多数決で決定します。

問9 下線部(j)について、

(1)国会での話し合いは、この二つの議院で行われます。このようなしくみをとっている理由を簡単に述べなさい。

(2)参議院議員の被選挙権の年齢条件と同じものを次から1つ選び、解答欄の記号を○で囲みなさい。

ア：都道府県知事

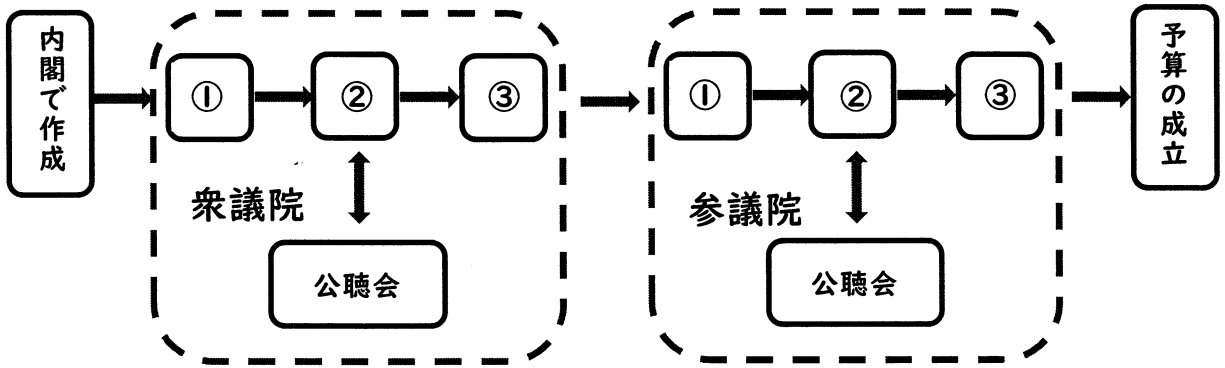
イ：市(区)町村長

ウ：都道府県議会議員

エ：市(区)町村議会議員

問10 下線部(k)について、下の図は、予算が成立するまでの流れを示しています。

①～③にあてはまる語句の組合せとして正しいものをあとから1つ選び、解答欄の記号を○で囲みなさい。



	①	②	③
ア	本会議	委員会	議長
イ	本会議	議長	委員会
ウ	委員会	本会議	議長
エ	委員会	議長	本会議
オ	議長	本会議	委員会
カ	議長	委員会	本会議

E 第5章は内閣のことについて書かれています。

内閣は、国会で作成された法律や予算にもとづいて実際の政治を行っています。(l)内閣は国会で選ばれた内閣総理大臣および国務大臣で構成されています。内閣のもとには専門的な仕事を受け持つ(m)さまざまな府・省・庁があり、多くの国務大臣が各省庁の大臣を務め、指示を出しています。

問11 下線部(l)について説明した文章として**誤っているもの**を次から 1 つ選び、解答欄の記号を○で囲みなさい。

ア：内閣総理大臣は、多くの場合、国会で多数の議席をしめる政党の代表が選ばれる。

イ：内閣総理大臣と国務大臣が政治の進め方を相談する閣議が開かれ、決定するときは多数決で行う。

ウ：国務大臣の多くは担当する省の大臣や庁の長官として、専門的な仕事を分担している。

エ：内閣は、国会の召集^{しゅうしゅう}や衆議院の解散の決定を行う。

問12 下線部(m)について、昨年 4 月、子供に関する政策を一本化するために発足した行政機関を何といいますか。正式な名称を答えなさい。

F 第6章は司法（裁判所）について書かれています。

(n) 裁判所は国会で作成された法律に問題がないかどうか、法律に反した政治が行われていないかどうかを判断します。また、社会での争いごとや、
(o) 犯罪が起きたときに法律にもとづいて解決したり、罪の有無や罪の重さを判断するなど、国民の権利を守る仕事も行っています。

問13 下線部(n)について説明した文章のうち、**誤っているもの**を次から 1 つ選び、解答欄の記号を○で囲みなさい。

ア：すべての裁判所で、国の政治や国会の定めた法律が憲法に違反していないかについて判断することができる。

イ：国会では、裁判官をやめさせるかどうかの裁判が行われる。

ウ：国民はすべての裁判官について、やめさせたほうがよいと思う裁判官を選ぶ投票ができる。

エ：裁判の判決に不服があるときは、さらに上級の裁判所に訴えることができ、同じ事件について3回まで裁判を受けることができる。

問14 下線部(o)について、現在に裁判に国民が参加する制度があります。この制度を何と言いますか。**漢字**で答えなさい。

問題はここまでです。

